



# Woodcraft Spørsmål 1:



Hva er det latinske navnet på denne Ara Papegøyen?

- A: Ara Militaris
- B: Ara Macao
- C: Spix Ara
- D: Glaucous Ara
- E: Ara Ararauna




# Woodcraft Spørsmål 2:



Hvor mange arter av Ara Papegøyer finnes det?

- A: 16
- B: 29
- C: 5
- D: 18
- E: 12



# Woodcraft Spørsmål 3:



Hvilken norsk fugl hører vi på dette spor opptaket?

- A: Kjøttmeis
- B: Gransanger
- C: Stær
- D: Bokfink
- E: Bjørkefink



# Woodcraft Spørsmål 4:



På engelsk bli denne fuglen kalt for "Chiffchaff" blant Folk, på samisk heter den "Skikeskáilka" og dens Latinske navn er "Phylloscopus Collybita". Hva heter den på norsk?

- A: Kjøttmeis
- B: Gransanger
- C: Stær
- D: Bokfink
- E: Bjørkefink






# Woodcraft Spørsmål 5:




Til tross for at Slimål arten mangler virvellegemner blir den klassifisert som et virveldyr. Det finnes hele 64 arter av den, men i Norge er kun én (1) art representert. Hva heter arten?

- A: Myxine Glutinosa
- B: Eptatretus Glutinosa
- C: Nemamyxine Glutinosa
- D: Neomyxine Glutinosa
- E: Notomyxine Glutinosa



## Woodcraft Spørsmål 6:



Niøyer og lampretter hører også til den store gruppen virveldyr. Alle artene har en ålelignende glatt kropp. Niøye er også kjent under navnet niåling. Navnet kommer av de sju (7) gjelleåpningene bak og neseåpningen foran øyet. Hva er det totale antallet på "øyne" på denne fisken?

- A: 16
- B: 14
- C: 18
- D: 19
- E: 17



# Woodcraft Spørsmål 7:



Hos de fleste fiskene er lungene fortsatt godt bevart i kroppen dens. Hos noen iform av en svømmeblære. Hvilken av de nedenforstående fiskegruppene har IKKE lunges eller svømmeblære?

- A: Kvastfinne Fisker
- B: Strålefinnede Fisker
- C: Lungefisker
- D: Bruskfisker
- E: Blåfisker



# Woodcraft Spørsmål 8:



Hva heter denne fisken?

- A: Piggskate
- B: Kloskate
- C: Pigghå
- D: Rødspette
- E: Havflyndre




# Woodcraft Spørsmål 9:



Hvor mange Edderkopp arter er det bekreftet funn på i Norge?

- A: Ca. 400 arter
- B: Ca. 500 arter
- C: Ca. 600 arter
- D: Ca. 700 arter
- E: Ca. 800 arter



# Woodcraft Spørsmål 10:



Dette flotte eksemplaret lever faktisk her i Norge. Den heter "Philodromus Margaritatus" på latinsk. Hvor liker den seg best?

- A: Barskog Områder
- B: Granskog Områder
- C: Furuskog Områder
- D: Barmarks Områder
- E: Løvskog Områder





# Woodcraft Spørsmål 11:



Hvor mange arter av viltvoksende nåletrær finnes det i Norge?

- A: 6
- B: 3
- C: 4
- D: 8
- E: 5



# Woodcraft Spørsmål 12:




Hvor mange arter av viltvoksende løvtrær finnes det i Norge?

- A: 18
- B: 15
- C: 16
- D: 20
- E: 14





# Woodcraft Spørsmål 13:



Hva heter stoffet som man finner som struktursubstans i alle høyere planter samt i alger og mikroorganismer?

- A: Kloroform
- B: Carrageenan
- C: Cellulose
- D: Guttaperka
- E: Polyestere



# Woodcraft Spørsmål 14:



Hvor mange Orkide arter i Norge er fredet?

- A: 5
- B: 8
- C: 12
- D: 14
- E: 18



# Woodcraft Spørsmål 15:



Planten på bildet heter Vaid og er en gammel kulturplante som egner seg særlig godt til farging av stoffer. Man kan farge både ull og silke med denne planten. Etter å lagt den til gjæring vil denne planten avgi hvilken farge?

- A: Grønn
- B: Rød
- C: Gul
- D: Svart
- E: Blå



# Woodcraft Spørsmål 16:



Vaid planten ga faktisk den opprinnelige fargen til et visst europeisk flagg. Hvilket?

- A: Det svenske flagget
- B: Det finske flagget
- D: Det norske flagget
- C: Det danske flagget
- E: Det islandske flagget



# Woodcraft Spørsmål 17:



Petroleum er en fellesbetegnelse for både råolje og naturgass. Råoljen er en tykk brennbar væske og kan forekomme i forskjellige farger. Hvilke?

- A: Sort eller Mørkerød
- B: Mørke Brun eller Grønn
- C: Mørk Blå eller knall Gul
- D: Fiolett eller Sort
- E: Mørkerød eller Mørk Brun



# Woodcraft Spørsmål 18:



Råolje kan variere ganske mye i sammensetning, renhet og utseende. Den består av en kompleks blanding av hydrokarboner. Hvilken hydrokarbon finner man mest av i råoljen?

- A: Benzen
- B: Alkaner
- C: Metan
- D: Alkener
- E: Oktanol





# Woodcraft Spørsmål 19:



Hvem var de første i menneskeheten til å gjøre Meteorologi til en vitenskap?

- A: Keltiske opprørere på Korstog
- B: Julius Cæsar og Romerne
- C: Kleopatra og Egypterne
- D: Antikkens Grekere
- E: Odysseus



# Woodcraft Spørsmål 20:



Hvor mange grader er det absolutte nullpunktet når det måles i Celsius?

- A: -253 grader Celsius
- B: -263 grader Celsius
- C: -273 grader Celsius
- D: -283 grader Celsius
- E: -293 grader Celsius






# Woodcraft Spørsmål 21:




Hva heter denne galaksen?

- A: Melkeveien
- B: Canis Major
- C: Sombroergalaksen
- D: Andromedagalaksen
- E: Chandragalaksen



# Woodcraft Spørsmål 22:



Hvilken av de nedenforstående forslagene er den korrekte rekkefølgen som planetene i vårt system er plassert i?

- A: Merkur, Venus, Jorden, Mars, Saturn, Jupiter, Uranus og Neptun
- B: Merkur, Venus, Jorden, Mars, Saturn, Jupiter, Neptun og Uranus
- C: Venus, Mars, Merkur, Venus, Jupiter, Jorden, Neptun, og Uranus
- D: Mars, Merkur, Jorden, Venus, Jupiter, Neptun, Uranus og Venus
- E: Merkur, Venus, Jorden, Mars, Jupiter, Saturn, Uranus og Neptun



# Woodcraft Spørsmål 23:



Dette bildet tilhører en av våre forfedre. Hvem av dem?

- A: Homo Erectus
- B: Homo Sapiens
- C: Homo Neanderthalis
- D: Homo Heidelbergensis
- E: Homo Sapiens Sapiens



# Woodcraft Spørsmål 24:



Hvor lenge går isbjørnen i hi?

- A: Ca. 3 måneder
- B: Ca. 4 måneder
- C: Ca. 5 måneder
- D: Ca. 6 måneder
- E: Ca. 7 måneder